

ÉCOLE DES PONTS PARISTECH
SUPAERO (ISAE), ENSTA PARISTECH,
TELECOM PARISTECH, MINES PARISTECH,
MINES DE SAINT-ÉTIENNE, MINES DE NANCY,
TÉLÉCOM BRETAGNE, ENSAE PARISTECH (FILIÈRE MP)
ÉCOLE POLYTECHNIQUE (FILIÈRE TSI)

CONCOURS D'ADMISSION 2011

SECONDE ÉPREUVE DE PHYSIQUE

Filière PC

(Durée de l'épreuve: 4 heures)

L'usage de la calculatrice est autorisé

Sujet mis à disposition des concours : Cycle international, ENSTIM, TELECOM INT, TPE-EIVP

Les candidats sont priés de mentionner de façon apparente sur la première page de la copie :

PHYSIQUE II — PC.

L'énoncé de cette épreuve comporte 6 pages.

- Si, au cours de l'épreuve, un candidat repère ce qui lui semble être une erreur d'énoncé, il est invité à le signaler sur sa copie et à poursuivre sa composition en expliquant les raisons des initiatives qu'il aura été amené à prendre.
- Il ne faudra pas hésiter à formuler les commentaires (incluant des considérations numériques) qui vous sembleront pertinents, même lorsque l'énoncé ne le demande pas explicitement. Le barème tiendra compte de ces initiatives ainsi que des qualités de rédaction de la copie.

FIBRE OPTIQUE À SAUT D'INDICE

L'épreuve est constituée de trois parties indépendantes. La première partie concerne l'étude de la propagation de la lumière dans une fibre optique dans le cadre de l'optique géométrique. La deuxième partie complète la première en étudiant la structure transverse d'une onde électromagnétique dans la fibre, et les conditions d'obtention d'une fibre monomode. Enfin, la dernière partie traite des effets non linéaires dans la fibre, notamment de l'effet Kerr optique. Après une modélisation microscopique de ce dernier, on s'intéresse au phénomène d'auto-modulation de phase et à l'existence possible de solitons optiques. Les applications numériques seront données avec 3 chiffres significatifs.

Une fibre optique à saut d'indice, représentée sur la figure 1 est formée d'un cœur cylindrique en verre d'axe (Ox) , de diamètre $2a$ et d'indice n entouré d'une gaine optique d'indice n_1 légèrement inférieur à n . Les deux milieux sont supposés homogènes, isotropes, transparents et non chargés. Un rayon situé dans le plan (Oxy) entre dans la fibre au point O avec un angle d'incidence θ . Afin de ne pas confondre l'angle i d'incidence sur la gaine avec le nombre complexe imaginaire pur de module 1, on notera ce dernier j tel que $j^2 = -1$. Quelques constantes sont données en fin d'épreuve. Les vecteurs sont surmontés d'un chapeau, \hat{u}_x , s'ils sont unitaires ou d'une flèche, \vec{E} , dans le cas général.

I. — Approche géométrique de la propagation

Dans cette partie, les rayons lumineux sont supposés issus d'une radiation monochromatique de fréquence f , de pulsation ω et de longueur d'onde λ dans le milieu constituant le cœur.

□ 1 — Les différents angles utiles sont représentés sur la figure 1. À quelle condition sur i , angle d'incidence à l'interface cœur/gaine, le rayon reste-t-il confiné à l'intérieur du cœur ? On note i_ℓ l'angle d'incidence limite.




FIG. 1 – Fibre optique en coupe

❑ 2 — Montrer que la condition précédente est vérifiée si l'angle d'incidence θ est inférieur à un angle limite θ_ℓ dont on exprimera le sinus en fonction de n et n_1 . En déduire l'expression de l'ouverture numérique $ON = \sin \theta_\ell$ de la fibre en fonction de n et n_1 uniquement.

❑ 3 — Donner la valeur numérique de ON pour $n = 1,50$ et $n_1 = 1,47$.

On considère une fibre optique de longueur L . Le rayon entre dans la fibre avec un angle d'incidence θ variable compris entre 0 et θ_ℓ . On note c la vitesse de la lumière dans le vide.

❑ 4 — Pour quelle valeur de l'angle θ , le temps de parcours de la lumière dans la fibre est-il minimal ? maximal ? Exprimer alors l'intervalle de temps δt entre le temps de parcours minimal et maximal en fonction de L , c , n et n_1 .

❑ 5 — On pose $2\Delta = 1 - (n_1/n)^2$. On admet que pour les fibres optiques $\Delta \ll 1$. Donner dans ce cas l'expression approchée de δt en fonction de L , c , n et Δ . On conservera cette expression de δt pour la suite du problème.

On injecte à l'entrée de la fibre une impulsion lumineuse d'une durée caractéristique $t_0 = t_2 - t_1$ formée par un faisceau de rayons ayant un angle d'incidence compris entre 0 et θ_ℓ . La figure 2 ci-contre représente l'allure de l'amplitude A du signal lumineux en fonction du temps t .

❑ 6 — Reproduire la figure 2 en ajoutant à la suite l'allure du signal lumineux à la sortie de la fibre. Quelle est la durée caractéristique t'_0 de l'impulsion lumineuse en sortie de fibre ?

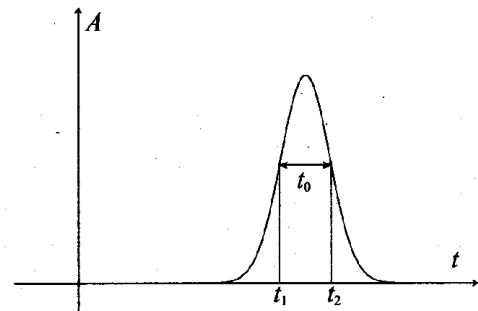


FIG. 2 – Impulsion lumineuse

Le codage binaire de l'information consiste à envoyer des impulsions lumineuses (appelées « bits ») périodiquement avec une fréquence d'émission F .

❑ 7 — En supposant t_0 négligeable devant δt , quelle condition portant sur la fréquence d'émission F exprime le non-recouvrement des impulsions à la sortie de la fibre optique ?

Pour une fréquence F donnée, on définit la longueur maximale L_{\max} de la fibre optique permettant d'éviter le phénomène de recouvrement des impulsions. On appelle bande passante de la fibre le produit $B = L_{\max} \cdot F$.

❑ 8 — Exprimer la bande passante B en fonction de c , n et Δ .

❑ 9 — Calculer la valeur numérique de Δ et de la bande passante B (exprimée en MHz·km) avec les valeurs de n et n_1 données dans la question 3. Pour un débit d'information de $F = 100 \text{ Mbits} \cdot \text{s}^{-1} = 100 \text{ MHz}$, quelle longueur maximale de fibre optique peut-on utiliser pour transmettre le signal ? Commenter la valeur de L_{\max} obtenue.

FIN DE LA PARTIE I

II. — Approche ondulatoire de la propagation

□ 10 — À quelle condition sur λ et a l'étude géométrique de la fibre menée dans la partie précédente cesse-t-elle d'être valable ? Dans ce cas, une approche ondulatoire de la propagation est nécessaire.

II.A. — Étude de la structure transverse de l'onde

En lumière monochromatique, seules certaines formes d'ondes, appelées « modes », peuvent se propager dans la fibre. Chaque mode se propage à une vitesse différente, ce qui engendre l'étalement des impulsions lumineuses et donc réduit la bande passante. Pour améliorer les performances, les fabricants de fibres optiques ont été amenés à élaborer des fibres à saut d'indice dites « monomodes » : un seul mode peut s'y propager, ce qui a pour effet de diminuer considérablement l'étalement des impulsions. La bande passante des fibres monomodes est ainsi beaucoup plus élevée que celle calculée à la question 9. Cette partie se propose d'étudier les conditions d'obtention d'une fibre optique à saut d'indice monomode.

On étudie donc la propagation d'un champ électromagnétique de pulsation ω dans la direction des x positifs. Pour simplifier, on se limite aux solutions pour lesquelles \vec{E} est polarisé suivant \hat{u}_z , avec $(\hat{u}_x, \hat{u}_y, \hat{u}_z)$ trièdre direct. On note

$$\begin{cases} \vec{E}_1 \text{ le champ électrique dans le milieu 1} & y < -a & \text{d'indice } n_1 \\ \vec{E}_2 \text{ le champ électrique dans le milieu 2} & -a < y < a & \text{d'indice } n \\ \vec{E}_3 \text{ le champ électrique dans le milieu 3} & y > a & \text{d'indice } n_1 \end{cases}$$

En notation complexe, et en simplifiant la géométrie du système, les champs sont recherchés sous la forme :

$$\vec{E}_s = e_s(y) e^{j(\omega t - k_x x)} \hat{u}_z \quad \text{avec } k_{x,s} \text{ réel et } s = 1, 2 \text{ ou } 3$$

□ 11 — En utilisant les relations de passage à la traversée d'un dioptre entre deux milieux diélectriques non chargés, montrer que $k_{x,1} = k_{x,2} = k_{x,3} = k_x$.

□ 12 — En utilisant l'équation de propagation du champ \vec{E} dans un milieu diélectrique d'indice n , montrer que les fonctions $e_s(y)$ sont solutions de l'équation différentielle

$$\frac{d^2 e_s}{dy^2} - \mu_s e_s = 0 \quad \text{pour } s = 1, 2 \text{ et } 3$$

On donnera l'expression de μ_s pour chacune des trois régions en fonction de k_x , ω , c et n ou n_1 .

Afin que la fibre optique soit effectivement un guide d'onde, on doit fixer les paramètres μ_s de cette équation de telle manière que ses solutions soient des ondes stationnaires suivant (Oy) dans le cœur, et évanescentes suivant (Oy) dans la gaine. Dans les trois régions considérées, les fonctions $e_s(y)$ s'écriront donc sous la forme

$$\begin{cases} e_1(y) = Ae^{\alpha y} \\ e_2(y) = B(e^{j\beta y} + \epsilon e^{-j\beta y}) \\ e_3(y) = \epsilon Ae^{-\alpha y} \end{cases}$$

où α et β sont deux réels positifs. Les coefficients A et B sont fixés grâce aux conditions aux limites du problème et le paramètre $\epsilon = \pm 1$ permet d'obtenir les deux familles de solutions. On posera $k = n\omega/c$ et $k_x = k \cos r$ où l'angle $r \in [0, \pi/2]$ correspond à l'angle de réflexion représenté sur la figure 1.

□ 13 — Exprimer β en fonction de k et r , puis α en fonction de k , r , n et n_1 .

□ 14 — Pour n et n_1 donnés, quelle est la valeur maximale r_ℓ de r ? En déduire la valeur minimale i_ℓ de i et commenter le résultat obtenu.

- 15 — À partir des équations de Maxwell, déterminer l'expression de la représentation complexe du champ magnétique dans chacun des trois milieux.
- 16 — On pose $\delta = e^{\alpha a}$ et $\gamma = e^{j\beta a}$. En utilisant les relations de continuité des champs en $y = a$, obtenir deux équations liant A , B , ε , α , β , γ et δ .
- 17 — En déduire, dans chacun des cas $\varepsilon = +1$ ou $\varepsilon = -1$, la relation que doivent vérifier α , β et a . Montrer que la réunion des deux cas se résume en la condition $\beta a + \arctan(\beta/\alpha) = p\pi/2$ avec $p \in \mathbb{Z}$. On rappelle que si $\vartheta > 0$, alors $\arctan(\vartheta) = \pi/2 - \arctan(\vartheta^{-1})$.

Comme β et α sont des fonctions de r , on pose $\beta a + \arctan(\beta/\alpha) = f(r)$. Pour a donné, on admet que la fonction $r \mapsto f(r)$ est strictement croissante sur $[0, r_\ell]$. Quand elle existe, la solution de l'équation $f(r) = p\pi/2$ est donc unique.

On souhaite réaliser une fibre monomode, c'est-à-dire une fibre dans laquelle l'angle r ne puisse prendre qu'une seule valeur pour la radiation de longueur d'onde $\lambda = 2\pi/k$ utilisée. Pour les applications numériques, on prendra $\lambda = 709$ nm.

- 18 — Déterminer la valeur maximale f_{\max} de $f(r)$ sur l'intervalle $[0, r_\ell]$. Montrer que si $p = 1$, la fibre est monomode quelles que soient les valeurs de a et λ . Montrer que si $p \geq 2$, l'équation $f(r) = p\pi/2$ n'a de solution que si $a > a_\ell$ où a_ℓ est un rayon minimal que l'on exprimera en fonction de p , λ , n et n_1 .
- 19 — Dans la pratique, afin de réaliser une fibre monomode, on prendra un rayon $a < a_\ell$ et seul le mode associé à $p = 1$ se propagera dans la fibre. Calculer la valeur de a_ℓ pour $p = 2$ et commenter le résultat obtenu.

II.B. — Dispersion intramodale

Même dans une fibre monomode, un autre phénomène provoque l'étalement des impulsions lumineuses. En effet, le cœur de silice est un milieu dispersif, c'est-à-dire que son indice optique dépend de la fréquence du rayonnement. Aux fréquences optiques, les fibres optiques sont généralement le siège d'une dispersion dite « anormale », pour laquelle les composantes haute fréquence se propagent plus vite que les composantes basse fréquence.

Or, la durée finie des paquets d'onde émis par les sources implique que l'onde qui se propage dans la fibre n'est jamais strictement monochromatique. Toutes les composantes fréquentielles du paquet d'onde ne se propagent pas à la même vitesse dans la fibre, un élargissement temporel de l'impulsion apparaît au cours de la propagation. Ce phénomène est appelé « dispersion intramodale » ou « dispersion chromatique ».

- 20 — La figure 3 représente le profil temporel du champ électrique scalaire $E(0, t)$ d'un paquet d'onde « gaussien » injecté à l'entrée $x = 0$ de la fibre. L'origine des temps est choisie telle que le centre du paquet d'onde passe en $x = 0$ à $t = 0$.

Représenter l'allure du profil temporel du champ électrique scalaire $E(x_{\text{fixé}}, t)$ du paquet d'onde après propagation dans la fibre.

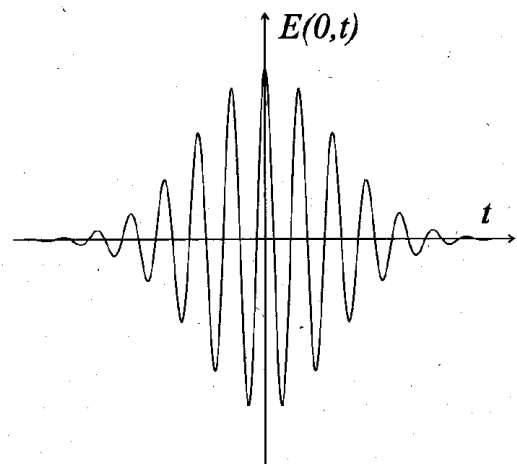


FIG. 3 — Paquet gaussien

FIN DE LA PARTIE II

III. — Phénomène optique non linéaire : effet Kerr

Quand l'amplitude du champ électrique de l'onde se propageant dans le cœur de la fibre n'est plus négligeable (*i. e.* $\geq 1\%$) devant le champ électrique intra-atomique assurant la cohésion de l'atome, des phénomènes optiques non linéaires peuvent apparaître.

□ 21 — On rappelle que la puissance par unité de surface transportée dans un milieu d'indice n par une onde plane progressive d'amplitude E_0 , aussi appelée *intensité lumineuse*, s'écrit $I = n\epsilon_0 c E_0^2 / 2$. Déterminer l'ordre de grandeur de l'intensité lumineuse au delà de laquelle la propagation peut donner lieu à des phénomènes optiques non linéaires ? Quelle invention du XX^e siècle a-t-elle permis d'atteindre de telles puissances surfaciques ?

III.A. — Modélisation microscopique

Dans cette partie, on propose une modélisation microscopique des interactions lumière/matière permettant d'expliquer l'effet Kerr optique, c'est-à-dire l'apparition d'une variation d'indice dans le milieu proportionnelle à l'intensité du faisceau lumineux qui s'y propage. Le modèle microscopique de l'électron lié suffit ici à rendre compte des propriétés essentielles que l'on cherche à mettre en évidence. On note $z(t)$ l'écart à la position d'équilibre d'un électron de masse m et de charge $-e$. Sous l'action de la force exercée par un champ électrique $\vec{E} = E_0 \cos(\omega t - kx) \hat{u}_z$ de forte puissance polarisé suivant Oz , on suppose que l'électron est, par réaction, soumis à une force de rappel comportant un terme harmonique et un terme de correction anharmonique :

$$\vec{F} = \left(-m\omega_0^2 z + \kappa \frac{m^2 \omega_0^3}{\hbar} z^3 \right) \hat{u}_z$$

où ω_0 est la pulsation de résonance de l'atome et $\hbar = \frac{h}{2\pi}$ la constante de Planck réduite. Dans toute cette partie, on suppose que la pulsation de l'onde incidente est différente de la pulsation de résonance du système mais suffisamment proche de celle-ci soit $\omega \neq \omega_0$ mais $\omega \simeq \omega_0$. On note également :

- N le nombre d'atomes par unité de volume
- $\chi_L = \frac{\Omega^2}{\omega_0^2 - \omega^2}$ la susceptibilité linéaire, avec $\Omega^2 = \frac{Ne^2}{\epsilon_0 m}$
- $n_L = \sqrt{1 + \chi_L}$ l'indice du milieu « linéaire »
- $\xi = \kappa \frac{\omega_0^3}{(\omega_0^2 - \omega^2)^3} \frac{(eE_0)^2}{m\hbar}$

□ 22 — Quelle est la dimension du coefficient κ traduisant l'importance du phénomène non linéaire ?

□ 23 — Établir l'équation vérifiée par la fonction $z(t)$.

Pour résoudre cette équation, on utilise un développement perturbatif aux différentes puissances de κ . On pose alors $z(t) = z_0(t) + \kappa z_1(t)$ avec $z_0(t)$ solution de l'équation différentielle linéaire obtenue pour $\kappa = 0$, et $z_1(t)$ perturbation obtenue en ne conservant dans l'équation différentielle que les termes du premier ordre en κ .

□ 24 — Déterminer l'expression de $z_0(t)$.

□ 25 — Déterminer l'équation différentielle vérifiée par $z_1(t)$. On admettra que si ω est suffisamment proche de ω_0 la solution de cette équation s'écrit

$$z_1(t) \simeq -\frac{\xi}{4\kappa} \frac{eE_0}{m} \left[\frac{3}{\omega_0^2 - \omega^2} \cos(\omega t - kx) + \frac{1}{\omega_0^2 - 9\omega^2} \cos[3(\omega t - kx)] \right]$$

Quelle est l'origine mathématique du terme en $\cos(3(\omega t - kx))$ contenu dans cette solution ?

□ 26 — On note χ la susceptibilité électrique du milieu et P_z la composante selon l'axe Oz du vecteur polarisation \vec{P} . Déterminer les expressions de P_z en fonction de N, e, z_0, κ et z_1 d'une part, et ϵ_0, χ et $E_0 \cos(\omega t - kx)$ d'autre part. On supposera le milieu isotrope et linéaire, cette approximation n'est pas en désaccord avec le développement perturbatif étudié ici.

□ 27 — En ne conservant que le terme de pulsation ω dans $z_0(t)$ et $z_1(t)$, déduire de la question précédente l'expression de l'indice n du milieu en fonction de n_L, χ_L et ξ .

III.B. — Auto-modulation de phase par effet Kerr

Dans le visible ($\omega \ll \omega_0$), on peut supposer que les différents indices ne varient pas avec la fréquence. Cette hypothèse revient à supposer que le milieu est non dispersif. La structure transverse de l'onde se propageant dans la fibre a été étudiée dans la partie II. Dans cette partie on se propose d'étudier l'influence des non linéarités optiques sur la structure longitudinale de l'onde. On suppose qu'en notation complexe le champ électrique dans la fibre peut se mettre sous la forme $\vec{E} = \underline{E}(x, t) \hat{u}_z$ avec

$$\underline{E}(x, t) = \underline{A}(x, t - k'_0 x) e^{j(\omega_0 t - k_0 x)} \quad \text{avec } k'_0 = \frac{dk}{d\omega}(\omega_0)$$

On admet que dans les conditions du problème, l'enveloppe $\underline{A}(x, t)$ de l'impulsion est solution de l'équation

$$\frac{\partial \underline{A}}{\partial x}(x, t) = j\Gamma |\underline{A}(x, t)|^2 \underline{A}(x, t)$$

où Γ dépend de l'indice du milieu de propagation mais pas du temps t .

□ 28 — Montrer que le module de $\underline{A}(x, t)$ ne dépend pas de x .

□ 29 — On pose $\underline{A}(0, t) = a(t)$. On admettra que $a(t)$ est réel. Donner les expressions de l'enveloppe $\underline{A}(x, t)$ puis du champ $\underline{E}(x, t)$.

□ 30 — On note $\underline{E}(x, t) = |\underline{E}(x, t)| e^{j\phi(x, t)}$. Pour un paquet d'onde gaussien centré sur $t = 0$ de profil temporel $a(t) = a_0 e^{-t^2/2\tau_0^2}$, déterminer l'expression de la pulsation instantanée $\omega(x, t) = \frac{\partial \phi}{\partial t}(x, t)$ puis tracer son allure en fonction du temps pour une valeur fixée non nulle de x .

□ 31 — La courbe tracée à la question précédente donne la distribution spectrale autour de la pulsation centrale ω_0 du paquet d'onde gaussien pour le front montant ($t < 0$) et descendant ($t > 0$) de ce paquet. En déduire comment est déformé un paquet d'onde gaussien (représenté sur la figure 3) au cours de sa propagation dans un milieu présentant un effet Kerr optique. Ce phénomène est appelé *automodulation*.

III.C. — Principe de propagation de solitons optiques

□ 32 — On considère que la fibre optique étudiée est à la fois le siège d'un phénomène de dispersion intramodale (cf. partie II.B) et d'un phénomène d'automodulation (cf. partie III.B). Montrer qualitativement qu'on peut envisager la propagation d'un paquet d'onde sans déformation. Un tel mode de propagation est appelé *soliton optique*.

FIN DE LA PARTIE III

Données numériques :

- vitesse de la lumière dans le vide : $c = 3,00 \cdot 10^8 \text{ m}\cdot\text{s}^{-1}$
- charge élémentaire : $e = 1,60 \cdot 10^{-19} \text{ C}$
- permittivité du vide : $\epsilon_0 = 8,85 \cdot 10^{-12} \text{ F}\cdot\text{m}^{-1}$

FIN DE L'ÉPREUVE